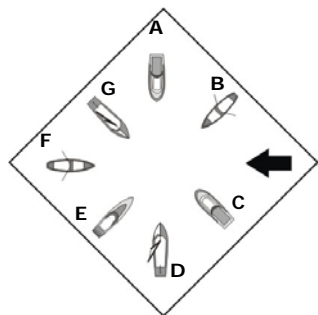


Reglementvraag



SAIL MASTER
PRODUCTIONS©

KB 1

Wat wordt binnen het BPR bedoeld met een schip?

Antwoord: Elk vaartuig dat geschikt is als vervoersmiddel op het water.

KB 2

Noem 4 type schepen die als groot schip worden gezien, ondanks dat ze vanwege hun lengte een klein schip zijn.

Antwoord: Een schip dat een groot schip sleept/duwt/assisteert/lansij meevoert, een veerpont, een vissersschip, een duwbak, een passagiersschip dat 12 personen of meer kan vervoeren.

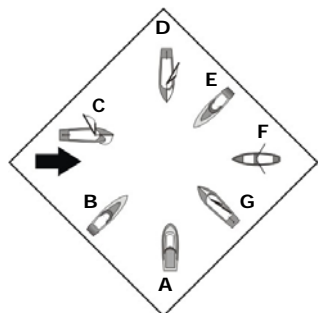
KB 3

In welke volgorde mogen de boten doorvaren en geef ook aan waarom? 'E' is een snel schip

Antwoord: D-G-F-B-A-C-E, zeil over BB gaat voor zeil over SB, zeil gaat voor roei- en motorboot, roeiboot van SB gaat voor roeiboot van BB, roeiboot gaat voor motorboot, motorboot van SB gaat voor motorboot van BB, snel schip wacht voor alles.

1 a

Reglementvraag



SAIL MASTER
PRODUCTIONS©

KB 1

Wat wordt binnen het BPR bedoeld met een zeilboot?

Antwoord: Een schip dat uitsluitend d.m.v. zijn zeilen wordt voortbewogen.

KB 2

Wat is het verschil tussen een snel schip en een snelle motorboot?

Antwoord: Een snel schip is een groot schip die harder kan dan 40 kilometer per uur, een snelle motorboot is een klein schip die harder kan dan 20 kilometer per uur.

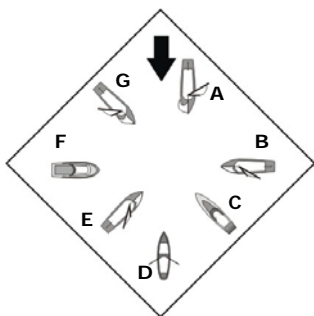
KB 3

In welke volgorde mogen de boten doorvaren en geef ook aan waarom? 'B' en 'E' zijn beide snelle schepen.

Antwoord: D-C-G-F-A, B & E beide naar SB, Loef wijk voor lij, zeil over BB gaat voor zeil over SB, zeil gaat voor roei- en motorboot, roeiboot gaat voor motorboot, motorboot gaat voor snel schip, beide snelle schepen wijken naar SB.

1 b

Reglementvraag



SAIL MASTER
PRODUCTIONS©

KB 1

Wat wordt binnen het BPR bedoeld met een roeiboot?

Antwoord: Een boot die door spierkracht wordt voortbewogen.

KB 2

Een boot van 18,5 meter, vaart met een snelheid van 24,95 kilometer per uur over het water. Wat voor soort schip is dit volgens het BPR en wordt dit schip gezien als een snel schip of snelle motorboot volgens het BPR?

Antwoord: Een klein schip, snelle motorboot.

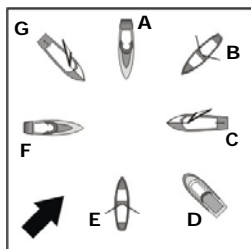
KB 3

In welke volgorde mogen de boten doorvaren en geef ook aan waarom? 'C' is een snel schip.

Antwoord: B-A-E-G-D-F-C, Loef wijkt voor lij, zeil over BB gaat voor zeil over SB, loef wijkt voor lij, zeilboot gaat voor roei- en motorboot, roeiboot gaat voor motorboot, motorboot gaat voor snel schip.

2 a

Reglementvraag



SAIL MASTER
PRODUCTIONS©

KB 1

Wat wordt binnen het BPR bedoeld met een motorboot?

Antwoord: Een schip dat mechanisch (dmv. een motor) word voortbewogen.

KB 2

Een boot van 25 meter, vaart met een snelheid van 20,25 kilometer per uur over het water. Wat voor soort schip is dit volgens het BPR en wordt dit schip gezien als een snel schip of snelle motorboot volgens het BPR?

Antwoord: Een groot schip, een snel schip.

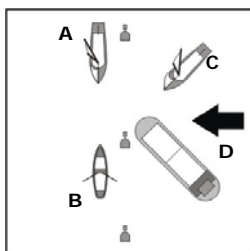
KB 3

In welke volgorde mogen de boten doorvaren en geef ook aan waarom? 'A' en 'F' zijn snelle schepen.

Antwoord: G-C-B-E-D-F-A, zeil over BB gaat voor zeil over SB, zeilboot gaat voor roei- en motorboot, roeiboot gaat voor motorboot, motorboot gaat voor snelschip, snelschip van SB gaat voor snelschip van BB

2 b

Reglementvraag



SAIL MASTER
PRODUCTIONS©

KB 1

Waar staat de afkorting BPR voor?

Antwoord: Het Binnenvaartpolitiereglement.

KB 2

Welke boten hoeven geen exemplaar van het BPR aanboord te hebben?

Antwoord: Een klein open schip en grote schepen zonder bemanningsverblijf.

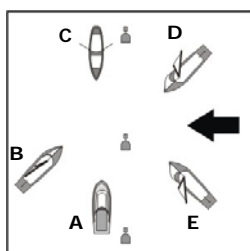
KB 3

In welke volgorde mogen de boten doorvaren en geef ook aan waarom? 'A' en 'B' varen in de vaargeul, 'D' is een groot schip

Antwoord: B-A-D-C, Schip dat SB-wal vaart gaat voor, betond hoofdvaarwater gaat voor schepen buiten vaargeul, groot schip gaat voor klein schip.

3 a

Reglementvraag



SAIL MASTER
PRODUCTIONS©

KB 1

Binnen het BPR wordt gesproken over een klein schip en een groot schip. Tot welke lengte wordt gesproken over een klein schip? En vanaf welke lengte wordt gesproken over een groot schip?

Antwoord: Klein schip tot 20 meter, groot schip vanaf 20 meter.

KB 2

Uit hoeveel graden op het kompas bestaat de kruisende koers van bakboord?

Antwoord: 112 ½ graden.

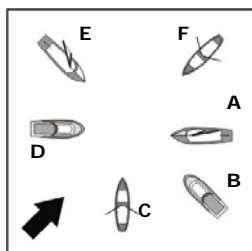
KB 3

In welke volgorde mogen de boten doorvaren en geef ook aan waarom? 'A', 'B' en 'C' varen in de vaargeul.

Antwoord: A-B-C-E-D, Schip dat SB-wal gaat voor, zeilboot gaat voor roeilboot, betond hoofdvaarwater gaat voor schepen buiten vaargeul, zeil over BB gaat voor zeil over SB

3 b

Reglementvraag



SAIL MASTER
PRODUCTIONS©

KB 1

Het BPR is van toepassing op alle binnen wateren inclusief de Waddenzee en het IJsselmeer. Op 10 kanalen gelden andere reglementen, noem er minimaal 5.

Antwoord: Boven-Rijn, Neder-Rijn, Lek, Waal, Pannerdenskanaal, Westerschelde, Eemsmonding, Dollard, Kanaal van Gent naar Terneuzen, Gemeenschappelijke Maas.

KB 2

Uit hoeveel graden op het kompas bestaat de olopende koers?

Antwoord: 135 graden.

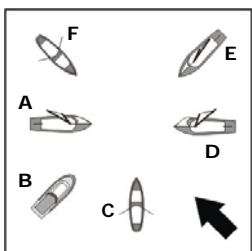
KB 3

In welke volgorde mogen de boten doorvaren en geef ook aan waarom?

Antwoord: E-A-F-C-B-D, Zeil over BB gaat voor zeil over SB, zeilboot gaat voor roei- en motorboot, roeiboot van SB gaat voor roeiboot van BB, roeiboot gaat voor motorboot, motorboot van SB gaat voor motorboot van BB.

4 a

Reglementvraag



SAIL MASTER
PRODUCTIONS©

KB 1

Een boot van 22,5 meter vaart met zeil en op de motor. Wat voor soort schip is dit volgens het BPR en wordt dit schip gezien als een klein of groot schip volgens het BPR?

Antwoord: Motorboot, groot schip.

KB 2

De kruisende koers beslaat op het kompas een gebied dat voorbij de 90 graden gaat. Als we 90 graden 'dwars op het schip' noemen. Hoeveel streken achterlijker dan dwars (dus voorbij 90 graden) is nog steeds kruisende koers?

Antwoord: 2 streken achterlijker dan dwars.

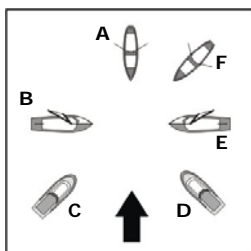
KB 3

In welke volgorde mogen de boten doorvaren en geef ook aan waarom?

Antwoord: A-E-D-C-F-B, Zeil over BB gaat voor zeil over SB, loef wijkt voor lij, zeilboot gaat voor roei- en motorboot, roeiboot van SB gaat voor roeiboot van BB, roeiboot gaat voor motorboot.

4 b

Reglementvraag



SAIL MASTER
PRODUCTIONS©

KB 1

Een boot van 18,15 meter vaart met zeil. Wat voor soort schip is dit volgens het BPR en wordt dit schip gezien als een klein of groot schip volgens het BPR?

Antwoord: Zeilboot, klein schip.

KB 2

Wat wordt verstaan met de term achterlijker dan dwars?

Antwoord: Het gebied tussen 90 graden en 180 graden van de boot.

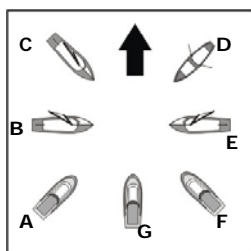
KB 3

In welke volgorde mogen de boten doorvaren en geef ook aan waarom?

Antwoord: B-E-A-F-D-C, Zeil over BB gaat voor zeil over SB, zeilboot gaat voor roei- en motorboot, roeiboot van SB gaat voor roeiboot van BB, roeiboot gaat voor motorboot, motorboot van SB gaat voor motorboot van BB.

5 a

Reglementvraag



SAIL MASTER
PRODUCTIONS©

KB 1

Een boot van 7,05 meter vaart op spierkracht. Wat voor soort schip is dit volgens het BPR en wordt dit schip gezien als een klein of groot schip volgens het BPR?

Antwoord: Roeiboot, klein schip.

KB 2

Wat wordt verstaan met de term voorlijker dan dwars?

Antwoord: Het gebied tussen 0 graden en 90 graden van de boot.

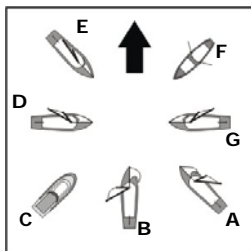
KB 3

In welke volgorde mogen de boten doorvaren en geef ook aan waarom?

Antwoord: C-B-E-D-F-G-A, Loef kijkt voor lij, zeil over BB gaat voor zeil over SB, zeilboot gaat voor roei- en motorboot, roeiboot gaat voor motorboot, motorboot van SB gaat voor motorboot van BB.

5 b

Reglementvraag



SAIL MASTER
PRODUCTIONS©

KB 1

Een boot van 14,95 meter wordt mechanisch voortbewogen. De boot brengt mensen en auto's van plek A naar plek B. Wat voor soort schip is deze veerpont volgens het BPR en wordt dit schip gezien als een klein of groot schip volgens het BPR?

Antwoord: Motorboot, groot schip (een veerpont is een groot schip)

KB 2

Je vaart in een kleine motorboot aan SB-wal, van bakboord komt een kleine motorboot. Wie heeft voorrang en waarom?

Antwoord: De motorboot die SB-wal vaart, het schip dat stuurboordwal vaart gaat voor.

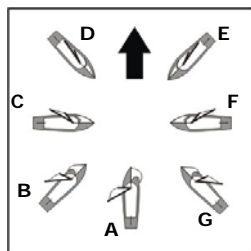
KB 3

In welke volgorde mogen de boten doorvaren en geef ook aan waarom?

Antwoord: E-D-B-G-A-F-C, Loef kijkt voor lij, zeil over BB gaat voor zeil over SB, loef kijkt voor lij, zeilboot gaat voor roei- en motorboot, roeiboot gaat voor motorboot.

6a

Reglementvraag



SAIL MASTER
PRODUCTIONS©

KB 1

Een boot van 16,25 meter vaart met zeil. De boot vaart met 30 personen op het IJsselmeer. Wat voor soort schip is dit volgens het BPR en wordt dit schip gezien als een klein of groot schip volgens het BPR?

Antwoord: Zeilboot, groot schip (een passagiersboot met minimaal 12 personen is een groot schip)

KB 2

Je vaart in een kleine motorboot aan SB-wal, van bakboord komt een grote motorboot. Wie heeft voorrang en waarom?

Antwoord: De kleine motorboot, het schip dat stuurboordwal vaart gaat voor.

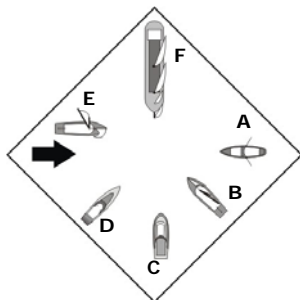
KB 3

In welke volgorde mogen de boten doorvaren en geef ook aan waarom?

Antwoord: D-C-B-A-E-F-G, Loef kijkt voor lij, zeil over BB gaat voor zeil over SB, loef kijkt voor lij.

6b

Reglementvraag



SAIL MASTER
PRODUCTIONS©

KB 1

Een boot van 11,95 meter wordt mechanisch voortbewogen. De boot vaart met maximaal 11 personen op de Kagerplassen. Wat voor soort schip is dit volgens het BPR en wordt dit schip gezien als een klein of groot schip volgens het BPR?

Antwoord: Motorboot, klein schip.

KB 2

Je vaart in een kleine roeiboot aan SB-wal, van bakboord komt een grote motorboot. Wie moet wijken en waarom?

Antwoord: De grote motorboot, het schip dat stuurboordwal vaart gaat voor.

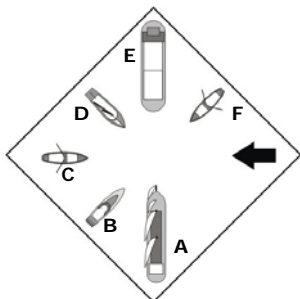
KB 3

In welke volgorde mogen de boten doorvaren en geef ook aan waarom? 'D' is een snelle motorboot, 'F' is een groot schip

Antwoord: F-E-B-A-C-D, Klein wijkt voor groot, zeil over BB gaat voor zeil over SB, zeilboot gaat voor roei- en motorboot, roeiboot gaat voor motorboot, motorboot van SB gaat voor motorboot van BB.

7 a

Reglementvraag



SAIL MASTER
PRODUCTIONS©

KB 1

Wat wordt binnen het BPR bedoeld met vaarweg?

Antwoord: Water dat voor alle verkeer open is, van oever tot oever.

KB 2

Je vaart in een kleine roeiboot aan SB-wal, van bakboord komt een kleine zeilboot. Wie moet wijken en waarom?

Antwoord: De kleine zeilboot, het schip dat stuurboordwal vaart gaat voor.

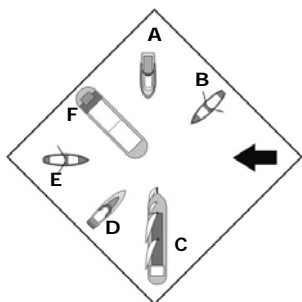
KB 3

In welke volgorde mogen de boten doorvaren en geef ook aan waarom? 'A' en 'E' zijn grote schepen.

Antwoord: A & E beide naar SB, D-C-F-B, Beide grote schepen wijken naar SB, klein wijkt voor groot, zeilboot gaat voor roei- en motorboot, roeiboot van SB gaat voor roeiboot van BB, roeiboot gaat voor motorboot.

7 b

Reglementvraag



SAIL MASTER
PRODUCTIONS©

KB 1

Wat wordt binnen het BPR bedoeld met vaarwater?

Antwoord: Deel van het water dat feitelijk door de scheepvaart kan worden gebruikt. Dit is per boot verschillend vanwege de verschillende diepgang.

KB 2

Je vaart in een kleine zeilboot aan SB-wal met het zeil over SB, van bakboord komt een kleine zeilboot met het zeil over BB. Wie heeft voorrang en waarom?

Antwoord: De zeilboot die SB-wal vaart, het schip dat stuurboordwal vaart gaat voor.

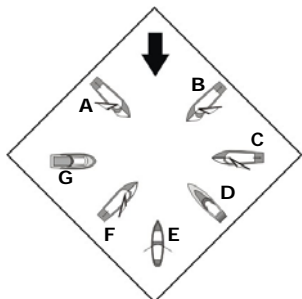
KB 3

In welke volgorde mogen de boten doorvaren en geef ook aan waarom? 'C' en 'F' zijn beide grote schepen, 'D' is een snelle motorboot.

Antwoord: C-F-E-B-D-A, Groot schip van SB gaat voor groot schip van BB, klein wijkt voor groot, roeiboort van SB gaat voor roeiboort van BB, roeiboort gaat voor motorboot, motorboot van SB gaat voor motorboot van BB.

8 a

Reglementvraag



SAIL MASTER
PRODUCTIONS©

KB 1

Wat wordt binnen het BPR bedoeld met 's nachts?

Antwoord: Tijd tussen zonsondergang en zonsopgang.

KB 2

Je vaart in een grote motorboot aan SB-wal, van bakboord komt een grote zeilboot. Wie heeft voorrang en waarom?

Antwoord: De grote motorboot die SB-wal vaart, het schip dat stuurboordwal vaart gaat voor.

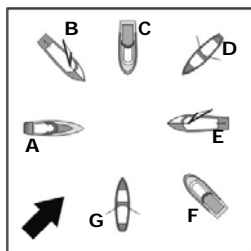
KB 3

In welke volgorde mogen de boten doorvaren en geef ook aan waarom? 'D' is een passagiersschip

Antwoord: D-C-B-F-A-E-G, Beroep- gaat voor pleziervaart, loef wijkt voor lij, zeil over BB gaat voor zeil over SB, loef wijkt voor lij, zeilboot gaat voor roei- en motorboot, roeiboort gaat voor motorboot.

8 b

Reglementvraag



SAIL MASTER
PRODUCTIONS©

KB 1

Wat wordt binnen het BPR bedoeld met overdag?

Antwoord: Tijd tussen zonsopgang en zonsondergang.

KB 2

Je vaart midden op een plas in een kleine motorboot, van stuurboord komt een andere kleine motorboot. Wie heeft voorrang en waarom?

Antwoord: De kleine motorboot van stuurboord, zijn beide schepen gelijk dan gaat het schip van stuurboord voor.

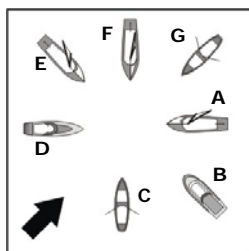
KB 3

In welke volgorde mogen de boten doorvaren en geef ook aan waarom? 'A' is een snelle motorboot, 'F' is een passagierschip.

Antwoord: F-B-E-D-G-A-C, Beroep- gaat voor pleziervaart, zeil over BB gaat voor zeil over SB, zeilboot gaat voor roei- en motorboot, roeiboot gaat voor motorboot, motorboot van SB gaat voor motorboot van BB.

9 a

Reglementvraag



SAIL MASTER
PRODUCTIONS©

KB 1

Wat is binnen het BPR het verschil tussen vaarwater en vaarweg?

Antwoord: Vaarweg is de hele breedte van het kanaal/sloot/rivier, etc. Het vaarwater is het gedeelte van het kanaal/sloot/rivier dat echt door de scheepvaart kan worden gebruikt vanwege de diepte.

KB 2

Je vaart midden op een plas in een kleine roeiboot, van bakboord komt een andere kleine roeiboot. Wie heeft voorrang en waarom?

Antwoord: De kleine roeiboot van stuurboord (jijzelf), zijn beide schepen gelijk dan gaat het schip van stuurboord voor.

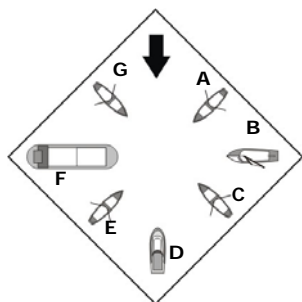
KB 3

In welke volgorde mogen de boten doorvaren en geef ook aan waarom? 'D' is een snelle motorboot.

Antwoord: F-E-A-G-C-B-D, Loef kijkt voor lij, zeil over BB gaat voor zeil over SB, zeilboot gaat voor roei- en motorboot, roeiboot van SB gaat voor roeiboot van BB, roeiboot gaat voor motorboot, motorboot van SB gaat voor motorboot van BB.

9 b

Reglementvraag



SAIL MASTER
PRODUCTIONS©

KB 1

Moeten alle boten een exemplaar van het BPR aan boord hebben?

Antwoord: Nee.

KB 2

Je vaart midden op een plas in een grote motorboot, van bakboord komt een grote zeilboot. Wie moet wijken en waarom?

Zeilboot

Antwoord: De grote zeilboot van bakboord, zijn beide schepen grote schepen dan gaat het schip van stuurboord voor.

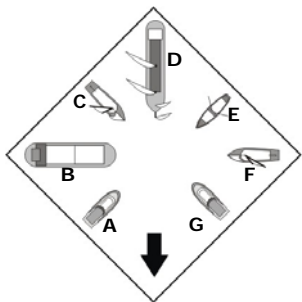
KB 3

In welke volgorde mogen de boten doorvaren en geef ook aan waarom? 'D' is een passagiersschip van 17 meter, 'F' is een groot schip.

Antwoord: D-F-B-(A, C, E, G niet te zeggen), Groot schip van SB gaat voor groot schip van BB, klein wijkt voor groot, zeilboot gaat voor roeiboot, alle roeiboten hebben een roeiboot van SB, de boten varen door op basis van goedzeemanschap.

10 a

Reglementvraag



SAIL MASTER
PRODUCTIONS©

KB 1

Wat wordt binnen het BPR verstaan met de schipper?

Antwoord: Dit is de persoon die het gezag voert aan boord. Hij is verantwoordelijk voor het naleven van bepalingen die in het vaargebied gelden. Wanneer iemand anders dan de schipper achter het roer zit blijft de schipper verantwoordelijk.

KB 2

Je vaart midden op een plas in een kleine zeilboot, van bakboord komt een grote motorboot. Wie moet wijken en waarom?

Antwoord: De kleine zeilboot, klein wijkt voor groot.

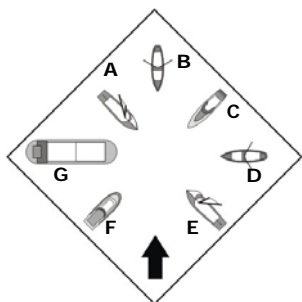
KB 3

In welke volgorde mogen de boten doorvaren en geef ook aan waarom? 'B' en 'D' zijn beide grote schepen.

Antwoord: B-D-F-C-E-G-A, Groot schip van SB gaat voor groot schip van BB, klein wijkt voor groot, zeil over BB gaat voor zeil over SB, zeilboot gaat voor roei- en motorboot, roeiboot gaat voor motorboot, motorboot van SB gaat voor motorboot van BB.

10 b

Reglementvraag



SAIL MASTER
PRODUCTIONS©

KB 1

Wat wordt binnen het BPR verstaan met de roerganger?

Antwoord: Diegene die het boot bestuurd.

KB 2

Je vaart midden op een plas in een snel schip, van stuurboord komt een kleine motorboot, Wie moet wijken en waarom?

Antwoord: Het snelle schip, snelle schepen zijn verplicht voorrang te verlenen aan andere schepen.

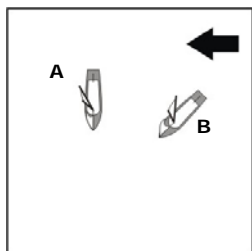
KB 3

In welke volgorde mogen de boten doorvaren en geef ook aan waarom? 'C' is een snelle motorboot, 'G' is een groot schip

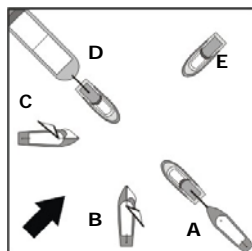
Antwoord: G-A-E-B-D-F & C beide naar SB, Klein wijkt voor groot, zeil over BB gaat voor zeil over SB, zeilboot gaat voor roei- en motorboot, roeiboot van SB gaat voor roeiboot van BB, roeiboot gaat voor motorboot, beide motorboten wijken naar SB.

11 a

Reglementvraag



Figuur 1



Figuur 2

KB 1

Een zeilboot is 7,5 meter lang. Hoe oud moet de roerganger zijn?

Antwoord: 16 jaar.

KB 2

Op het plaatje in figuur 1 zie je 2 zeilboten met beide het zeil over stuurboord. Wie heeft er voorrang en waarom?

Antwoord: Zeilboot A, loef wijkt voor lij (hoog wijkt voor laag).

KB 3

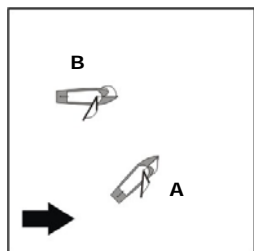
In welke volgorde mogen de boten in figuur 2 doorvaren en geef ook aan waarom? 'A' is een klein schip dat een klein schip sleept, 'D' is een klein schip dat een groot schip sleept.

Antwoord: D-C-B-E-A, klein wijkt voor groot, zeil over BB gaat voor zeil over BB, zeilboot gaat voor motorboot, motorboot van SB gaat voor motorboot van BB.

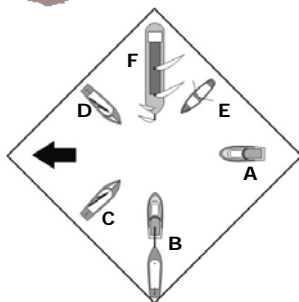
SAIL MASTER
PRODUCTIONS©

11 b

Reglementvraag



Figuur 1



Figuur 2

SAIL MASTER
PRODUCTIONS©

KB 1

Een roeiboot is 6,55 meter lang. Hoe oud moet de roerganger zijn?

Antwoord: Geen minimum leeftijd.

KB 2

Op het plaatje in figuur 1 zie je 2 zeilboten met beide het zeil over stuurboord. Wie moet wijken en waarom?

Antwoord: Zeilboot B, loef wijkt voor lij (hoog wijkt voor laag).

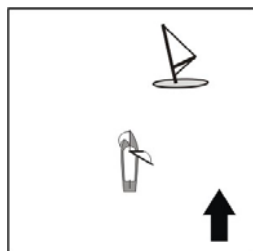
KB 3

In welke volgorde mogen de boten in figuur 2 doorvaren en geef ook aan waarom? 'B' is een klein schip dat een klein schip sleept, 'F' is een groot zeilschip.

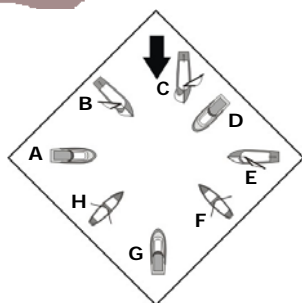
Antwoord: F-C-D-E-A-B, Klein wijkt voor groot, zeil over BB gaat voor zeil over SB, zeilboot gaat voor roei- en motorboot, roeiboot gaat voor motorboot, motorboot van SB gaat voor motorboot van BB.

12 a

Reglementvraag



Figuur 1



Figuur 2

SAIL MASTER
PRODUCTIONS©

KB 1

Een motorboot is 4,95 meter lang en gaat 13,95 kilometer per uur. Hoe oud moet de roerganger zijn?

Antwoord: 16 jaar.

KB 2

Op het plaatje in figuur 1 zie je een zeilboot en een surfplank met beide het zeil over stuurboord. Wie heeft er voorrang en waarom?

Antwoord: De surfplank, loef wijkt voor lij (hoog wijkt voor laag).

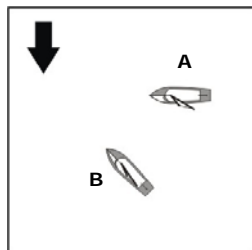
KB 3

In welke volgorde mogen de boten in figuur 2 doorvaren en geef ook aan waarom?

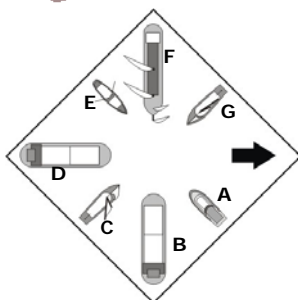
Antwoord: E-C-B-F-H (A, D, G niet te zeggen), Loef wijkt voor lij, zeil over BB gaat voor zeil over SB, zeilboot gaat voor roei- en motorboot, roeiboot van SB gaat voor roeiboot van BB, alle motorboten hebben een motorboot van SB, de boten varen door op basis van goedzeemanschap.

12 b

Reglementvraag



Figuur 1



Figuur 2

SAIL MASTER
PRODUCTIONS©

KB 1

Een motorboot is 6,85 meter lang en gaat 12,5 kilometer per uur. Hoe oud moet de roerganger zijn?

Antwoord: 12 jaar.

KB 2

Op het plaatje in figuur 1 zie je 2 zeilboten met beide het zeil over bakboord. Wie heeft er voorrang en waarom?

Antwoord: Zeilboot B, loef wijkt voor lij (hoog wijkt voor laag).

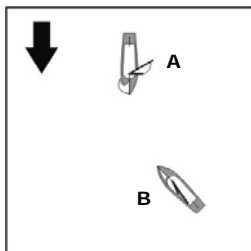
KB 3

In welke volgorde mogen de boten in figuur 2 doorvaren en geef ook aan waarom?

Antwoord: B-D-F-G-C-E-A, Groot schip van SB gaat voor grootschip van BB, klein wijkt voor groot, zeil over BB gaat voor zeil over SB, zeilboot gaat voor roei- en motorboot, roeiboot gaat voor motorboot.

13 a

Reglementvraag



KB 1

Een motorboot is 12,5 meter lang en gaat 16,5 kilometer per uur. Hoe oud moet de roerganger zijn?

Antwoord: 16 jaar.

KB 2

Op het plaatje zie je 2 zeilboten met beide de zeilen over bakboord. Wie moet wijken en waarom?

Antwoord: Zeilboot A, loef wijkt voor lij (hoog wijkt voor laag).

KB 3

Een klein roeiboot vaart op het nevenvaarwater, een klein motorboot vaart op het hoofdvaarwater. Wie heeft voorrang en waarom?

Antwoord: Motorboot, hoofdvaarwater gaat voor nevenvaarwater.

SAIL MASTER
PRODUCTIONS©

13 b

Reglementvraag



SAIL MASTER
PRODUCTIONS©

KB 1

Een motorboot is 15,95 meter lang en gaat 19,5 kilometer per uur. Hoe oud moet de roerganger zijn?

Antwoord: 16 jaar.

KB 2

Je vaart in een kleine motorboot en wordt voorbij gelopen door een andere kleine motorboot. Wat moet jij volgens het BPR doen?

Antwoord: Verminder snelheid om het voorlopen zonder gevaar te laten verlopen.

KB 3

Een klein zeilboot vaart op het hoofdvaarwater, een groot motorschip vaart op het nevenvaarwater. Wie heeft voorrang en waarom?

Antwoord: Groot motorschip, klein wijkt voor groot.

14 a

Reglementvraag



SAIL MASTER
PRODUCTIONS©

KB 1

Een motorboot is 11,95 meter lang en gaat 28 kilometer per uur. Hoe oud moet de roerganger zijn?

Antwoord: 18 jaar.

KB 2

Je vaart in een kleine roeiboot en wordt voorbij gelopen door een kleine motorboot. Wat moet de roeiboot volgens het BPR doen?

Antwoord: Verminder snelheid om het voorlopen zonder gevaar te laten verlopen.

KB 3

Geef 3 van de 5 voorbeelden waarbij de snelheid moet worden beperkt om schade/hinder te voorkomen?

Antwoord: Ingang van een haven, bij stilliggende schepen, bij veerponten, waar het staat aangegeven met een verkeersbord (zie plaatje) en bij schepen Waar dit staat aangegeven met een rood-wit bord/licht.



14 b

Reglementvraag



SAIL MASTER
PRODUCTIONS©

KB 1

Welke 3 verschillende koersen kent het BPR?

Antwoord: Tegengestelde koers, kruisende koers en oplopende koers.

KB 2

Je vaart in een kleine roeiboot en wordt voorbij gelopen door een kleine zeilboot. Wat moet jij volgens het BPR doen?

Antwoord: Wijk uit naar de lage kant (lij) en eventueel verminder je snelheid.

KB 3

Waar moet je op letten als je wilt gaan keren op het water?

Antwoord: Dat je hierbij geen andere boten hindert.

15 a

Reglementvraag



SAIL MASTER
PRODUCTIONS©

KB 1

Uit hoeveel streken op het kompas bestaat de kruisende koers van stuurboord?

Antwoord: 10 streken.

KB 2

Je vaart in een kleine motorboot en je haalt een groot schip in. Wat moet het grote schip volgens het BPR doen?

Antwoord: Niets, een groot schip hoeft geen medewerking te verlenen aan een klein schip bij het inhalen.

KB 3

2 kleine zeilboten varen recht op elkaar af richting een engte. A heeft de engte aan SB en het zeil over BB, zeilboot B heeft de engte aan BB en het zeil over SB. Wie heeft voorrang en waarom?

Antwoord: Zeilboot A, zeil over BB gaat voor zeil over SB.

15 b

Reglementvraag



SAIL MASTER
PRODUCTIONS©

KB 1

Uit hoeveel streken op het kompas bestaat de oplopende koers?

Antwoord: 12 streken.

KB 2

Midden op een plas varen 2 kleine motorboten recht naar elkaar toe. Wie moet wijken en waarom?

Antwoord: Beide motorboten wijken naar stuurboord, zijn beide schepen gelijk dan wijken beide naar stuurboord.

KB 3

2 boten varen recht op elkaar af richting een engte. A is een klein zeilboot met de engte aan SB en de engte heeft bezeild, B is een klein roeiboot met de engte aan BB. Wie heeft voorrang en waarom?

Antwoord: Zeilschip A, roeiboot wacht voor zeilboot.

16 a

Reglementvraag



SAIL MASTER
PRODUCTIONS©

KB 1

Wat wordt binnen het BPR verstaan met goedzeemanschap?

Antwoord: Voorkomen dat: personen in gevaar komen, schade wordt veroorzaakt aan schepen, oevers, enz, de veiligheid of vlotte verloop van de scheepvaart in gevaar komt.

KB 2

Midden op een plas varen 2 kleine roeiboten recht naar elkaar toe. Wie moet wijken en waarom?

Antwoord: Beide roeiboten wijken naar stuurboord, zijn beide schepen gelijk dan wijken beide naar stuurboord.

KB 3

2 boten varen recht op elkaar af richting een engte. A is een klein motorboot met de engte aan BB, B is een klein roeiboot met de engte aan SB. Wie moet wachten en waarom?

Antwoord: Roeiboot B, engte aan SB wacht voor engte aan BB.

16 b

Reglementvraag



SAIL MASTER
PRODUCTIONS©

KB 1

Wat moet je met je snelheid en koers doen als je voorrang moet verlenen?

Antwoord: Tijdig van koers veranderen of de snelheid veranderen.

KB 2

Midden op een plas varen een kleine roeiboot en een kleine motorboot recht naar elkaar toe. Wie heeft voorrang en welke regel geldt hier

Antwoord: De kleine roeiboot, motorboot wijkt voor roeiboot.

KB 3

2 kleine zeilboten varen recht op elkaar af richting een engte. A heeft de engte aan BB en het zeil over SB, zeilboot B heeft de engte aan SB en het zeil over BB. Wie heeft voorrang en waarom?

Antwoord: Zeilboot B, zeil over BB gaat voor zeil over SB.

17 a

Reglementvraag



SAIL MASTER
PRODUCTIONS©

KB 1

Wat moet je met je snelheid en koers doen wanneer je voorrang hebt?

Antwoord: Koers en snelheid behouden.

KB 2

Midden op een plas varen een grote zeilboot en een grote motorboot recht naar elkaar toe. Wie heeft voorrang en waarom?

Antwoord: Beide schepen wijken naar stuurboord, zijn beide schepen grote schepen dan wijken beide naar stuurboord.

KB 3

2 kleine roeiboten varen recht op elkaar af richting een engte. A heeft de engte aan BB en B heeft de engte aan SB. Wie moet wachten en waarom?

Antwoord: Roeiboot B, engte aan SB wacht voor engte aan BB.

17 b

Reglementvraag



SAIL MASTER
PRODUCTIONS©

KB 1

In welk boek kun je de reglementen van het BPR vinden?

Antwoord: Wateralmanak deel 1.

KB 2

Je vaart in een sleepboot van 7,10 meter en je sleept een boot van 12 meter. Van stuurboord komt een kleine motorboot. Wie heeft voorrang en waarom?

Antwoord: De kleine motorboot van stuurboord, zijn beide schepen gelijk (kleine motorboot) dan gaat de boot van stuurboord voor.

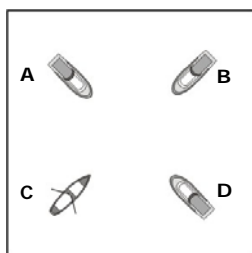
KB 3

2 kleine motorboten varen recht op elkaar af richting een engte. A heeft de engte aan BB en B heeft de engte aan SB. Wie heeft voorrang en waarom?

Antwoord: Motorboot A, engte aan SB wacht voor engte aan BB.

18 a

Reglementvraag



SAIL MASTER
PRODUCTIONS©

KB 1

Je vaart midden op een plas in een kleine zeilboot en je komt een kleine motorboot tegen. Wie moet wijken en waarom?

Antwoord: Motorboot, motorboot wijkt voor zeilboot.

KB 2

In welke volgorde mogen de boten doorvaren (zie figuur)?

Antwoord: C-A-B-D, Roei gaat voor motor, SB gaat voor BB.

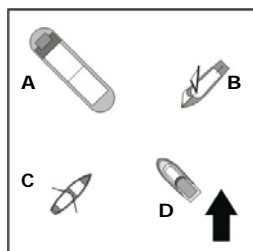
KB 3

2 boten varen recht op elkaar af richting een engte. A is een groot motorschip met de engte aan SB, B is een klein motorboot met de engte aan BB. Wie moet wachten en waarom?

Antwoord: Motorboot B, klein wacht voor groot.

18 b

Reglementvraag



SAIL MASTER
PRODUCTIONS©

KB 1

Je vaart midden op een plas in een kleine zeilboot en je komt een kleine roeiboot tegen. Wie heeft voorrang en waarom?

Antwoord: Zeilboot, roeiboot wijkt voor zeilboot.

KB 2

In welke volgorde mogen de boten doorvaren (zie figuur)?

Antwoord: A-B-C-D, klein wijkt voor groot, zeil gaat voor roei en motor, roei gaat voor motor.

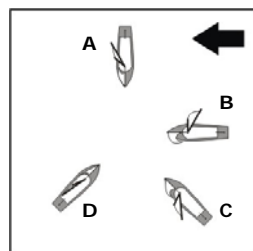
KB 3

De vaargeul is aan beide zeiden versmald, 2 boten varen recht op elkaar af richting de engte. A is een klein zeilschip met het zeil over BB en heeft de engte niet bezeild, B is een klein roeiboot. Wie moet wachten en waarom?

Antwoord: Zeilboot A, engte niet bezeild wacht voor rest.

19 a

Reglementvraag



SAIL MASTER
PRODUCTIONS©

KB 1

Je vaart midden op een plas in een kleine motorboot en je komt een kleine zeilboot tegen. Wie moet wijken en welke regel geldt hier?

Antwoord: Motorboot, motorboot wijkt voor zeilboot.

KB 2

In welke volgorde mogen de boten doorvaren?

Antwoord: D-C-A-B, zeil over BB gaat voor zeil over SB, loef wijkt voor lij.

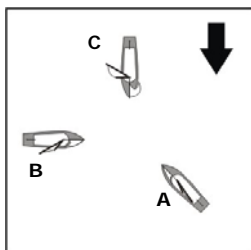
KB 3

De vaargeul is aan beide zeiden versmald, 2 boten varen recht op elkaar af richting de engte. A is een klein motorboot, B is een klein zeilschip met het zeil over SB en heeft de engte niet bezeild. Wie moet wachten en waarom?

Antwoord: Zeilboot B, engte niet bezeild wacht voor rest.

19 b

Reglementvraag



SAIL MASTER
PRODUCTIONS©

KB 1

Je vaart midden op een plas in een kleine motorboot en je komt een grote zeilboot tegen. Wie heeft voorrang en waarom?

Antwoord: Zeilboot, klein wijkt voor groot.

KB 2

In welke volgorde mogen de boten doorvaren?

Antwoord: A-C-B, zeil over BB gaat voor zeil over SB, loef wijkt voor lij.

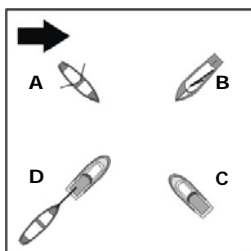
KB 3

De vaargeul is aan beide zeiden versmald, 2 kleine zeilboten varen recht op elkaar af richting de engte. A heeft het zeil over SB en heeft de engte bezeild, B heeft het zeil over BB en heeft de engte niet bezeild. Wie heeft voorrang en waarom?

Antwoord: Zeilboot A, engte bezeild gaat voor engte niet bezeild.

20 a

Reglementvraag



SAIL MASTER
PRODUCTIONS©

KB 1

Je vaart midden op een plas in een kleine roeiboot en je komt een kleine zeilboot tegen. Wie heeft voorrang en welke regel geldt hier?

Antwoord: Zeilboot, roeiboot wijkt voor zeilboot.

KB 2

In welke volgorde mogen de boten doorvaren en geef ook aan waarom?

Antwoord: B-A-C-D, zeil gaat voor roei en motor, roei gaat voor motor, schip van SB gaat voor schip van BB.

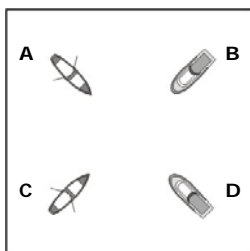
KB 3

De vaargeul is aan beide zeiden versmald, 2 kleine zeilboten varen recht op elkaar af richting de engte. A heeft het zeil over BB, B heeft het zeil over SB. Wie moet wachten en waarom?

Antwoord: Zeilboot B, zeil over BB gaat voor zeil over SB.

20 b

Reglementvraag



SAIL MASTER
PRODUCTIONS©

KB 1

Je vaart midden op een plas in een kleine zeilboot met het zeil over SB, je komt een kleine zeilboot met het zeil over BB tegen. Wie moet wijken en waarom?

Antwoord: Zeilboot met het zeil over SB, zeil over SB wijkt voor zeil over BB.

KB 2

In welke volgorde mogen de boten doorvaren en geef ook aan waarom?

Antwoord: C-A-B-D, roei gaat voor motor, schip van SB gaat voor schip van BB.

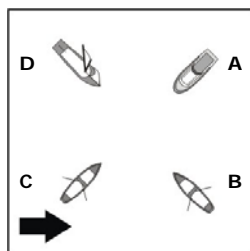
KB 3

De vaargeul is aan beide zeiden versmald, 2 roeiboten varen recht op elkaar af richting de engte. Wie heeft voorrang en waarom?

Antwoord: Goedzeemanschap is niet geregeld in het BPR.

21 a

Reglementvraag



SAIL MASTER
PRODUCTIONS©

KB 1

Je vaart midden op een plas in een kleine zeilboot met het zeil over BB, je komt een kleine zeilboot met het zeil over SB tegen. Wie heeft voorrang en welke regel geldt hier?

Antwoord: Zeilboot met het zeil over BB, zeil over SB wijkt voor zeil over BB.

KB 2

In welke volgorde mogen de boten doorvaren en geef ook aan waarom?

Antwoord: D-B-C-A, zeil gaat voor roei en motor, roei gaat voor motor, schip van SB gaat voor schip van BB.

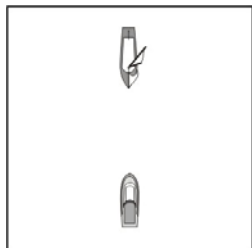
KB 3

De vaargeul is aan beide zeiden versmald, 2 boten varen recht op elkaar af richting de engte. A is een groot zeilschip dat mechanisch wordt voortbewogen, B is een klein roeiboot. Wie moet wachten en waarom?

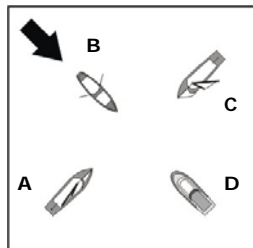
Antwoord: Roeiboot B, klein wacht voor groot.

21 b

Reglementvraag



Figuur 1



Figuur 2

SAIL MASTER
PRODUCTIONS©

KB 1

Op welke koers naderen de boten elkaar in figuur 1?

Antwoord: Tegengestelde koers.

KB 2

In welke volgorde in figuur 2 mogen de boten doorvaren en geef aan ook waarom?

Antwoord: C-A-B-D, zeil over BB gaat voor zeil over SB, zeil gaat voor roei en motor, roei gaat voor motor.

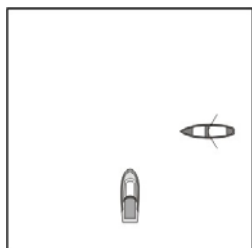
KB 3

De vaargeul is aan beide zeiden versmald, 2 boten varen recht op elkaar af richting de engte. A is een groot motorschip dat stroom opwaarts vaart, B is een klein zeilschip dat stroom afwaarts vaart. Wie moet wachten en waarom?

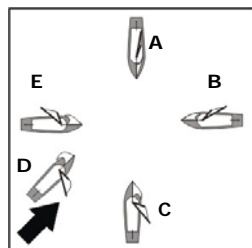
Antwoord: Groot motorschip A, stroomafwaarts gaat voor stroomopwaarts.

22 a

Reglementvraag



Figuur 1



Figuur 2

SAIL MASTER
PRODUCTIONS©

KB 1

Op welke koers naderen de boten in figuur 1 elkaar?

Antwoord: Kruisende koers.

KB 2

In welke volgorde mogen de boten doorvaren in figuur 2 en geef ook aan waarom?

Antwoord: A-E-B-C-D, Loef wijkt voor lij, zeil over BB gaat voor zeil over SB, loef wijkt voor lij.

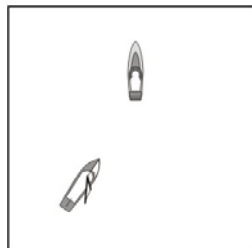
KB 3

De vaargeul is aan beide zeiden versmald, van elke kant komt een kleine motorboot aangevaren. Motorboot A vaart stroom afwaarts en motorboot B vaart stroom opwaarts. Wie heeft voorrang en waarom?

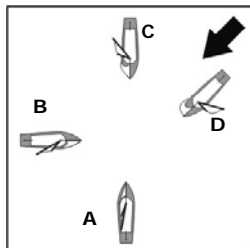
Antwoord: Motorboot A, stroomafwaarts gaat voor stroomopwaarts.

22 b

Reglementvraag



Figuur 1



Figuur 2

SAIL MASTER
PRODUCTIONS©

KB 1

Op welke koers naderen de boten elkaar (zie figuur 1)?

Antwoord: Oplopende koers. (bij twijfel is altijd oplopende/teggengestelde koers)

KB 2

In welke volgorde mogen de boten doorvaren en geef ook aan waarom (zie figuur 2)?

Antwoord: A-D-B-C, Loef wijkt voor lij, zeil over BB gaat voor zeil over SB, loef wijkt voor lij.

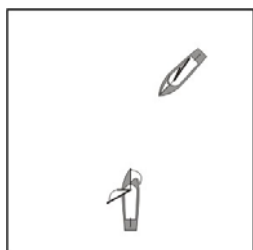
KB 3

Als je bij een engte komt en je hebt geen voorrang, wat moet je dan doen?

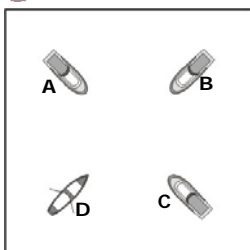
Antwoord: Wachten totdat het andere schip de engte heeft gepasseerd.

23 a

Reglementvraag



Figuur 1



Figuur 2

SAIL MASTER
PRODUCTIONS©

KB 1

Op welke koers naderen de boten elkaar (zie figuur 1)?

Antwoord: Kruisende koers.

KB 2

In welke volgorde mogen de boten doorvaren en geef ook aan waarom (zie figuur 2)?

Antwoord: D-A-B-C, Roeiboot gaat voor motorboot, motorboot van SB gaat voor motorboot van BB.

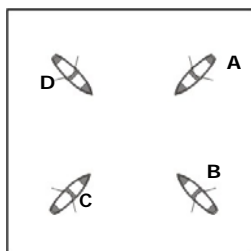
KB 3

Wat is een engte?

Antwoord: Een versmalling in de vaarweg waardoor het te smal is om gelijktijdig te passeren. Daarbij is de voorrangssituatie niet geregeld via verkeerslichten, -borden of de politie.

23 b

Reglementvraag



SAIL MASTER
PRODUCTIONS©

KB 1

Het BPR is van toepassing op alle binnenwateren inclusief de Waddenzee en het IJsselmeer. Op 10 kanalen gelden andere reglementen, noem er minimaal 3.

Boven-Rijn, Neder-Rijn, Lek, Waal, Pannerdenskanaal, Westerschelde, Eemsmonding, Dollard, Kanaal van Gent naar Terneuzen, Gemeenschappelijke Maas.

KB 2

In welke volgorde mogen de boten doorvaren en geef ook aan waarom?

Antwoord: Alle roeiboten hebben een roeiboot van SB, voorrang gaat op basis van goedezemschap.

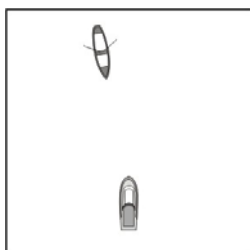
KB 3

Wat wordt verstaan onder een kenteken voor een roeiboot van 6 meter?

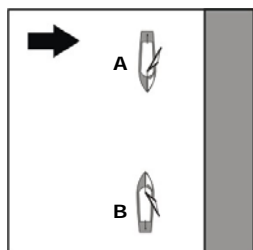
Antwoord: Naam van de boot op de buitenzijde van het schip.

24 a

Reglementvraag



Figuur 1



Figuur 2

KB 1

Op welke koers naderen de boten in figuur 1 elkaar?

Antwoord: Tegengestelde koers. (bij twijfel is altijd oplopende/tegengestelde koers)

KB 2

Welke boot in figuur 2 heeft voorrang en waarom?

Antwoord: B, deze vaart stuurboordwal.

KB 3

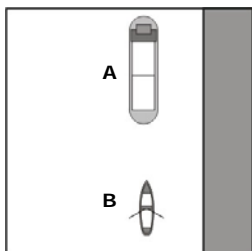
Wat wordt verstaan onder een kenteken voor een klein zeilschip?

Antwoord: Naam van de boot op de buitenzijde van het schip, naam en woonplaats eigenaar aan de buiten- of binnenzijde van het schip.

24 b

SAIL MASTER
PRODUCTIONS©

Reglementvraag



SAIL MASTER
PRODUCTIONS©

KB 1

2 boten naderen elkaar en er dreigt gevaar voor een aanvaring. De situatie is niet duidelijk in het BPR beschreven. Hoe moet worden gehandeld?

Antwoord: Hier geldt goedzeemanschap waarbij altijd een aanvaring door iedereen moet worden voorkomen ook al heb je voorrang (artikelnr 1.05).

KB 2

Welke boot in het plaatje heeft voorrang en waarom?

Antwoord: B, Roeiboot vaart stuurboordwal.

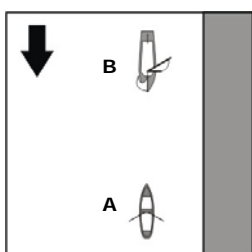
KB 3

Welke kleine schepen hebben een kenteken nodig?

Antwoord: Alle kleine schepen.

25 a

Reglementvraag



SAIL MASTER
PRODUCTIONS©

KB 1

Als je niet zeker weet of je wel of geen voorrang hebt op een andere boot, wat moet je dan doen?

Antwoord: Voorkom altijd een aanvaring, is de situatie niet duidelijk beschreven of ben je niet zeker of je voorrang hebt, doe dan alles om een aanvaring te voorkomen.

KB 2

Welke boot in figuur 2 heeft voorrang en waarom?

Antwoord: A, Roeiboot vaart stuurboordwal.

KB 3

Het BPR is van toepassing op alle binnen wateren inclusief de Waddenzee en het IJsselmeer. Op welke kanalen gelden andere en/of aanvullende reglementen?

Antwoord: Boven-rijn, Neder-rijn, Lek, Waal, Pannerdenskanaal, Westerschelde, Eemsmonding, Dollard, Kanaal van Gent naar Terneuzen, Gemeenschappelijke Maas.

25 b